

さんすう

2年の まとめ

出題範囲 1. ひょうと グラフ~16. 分数

なまえ
87

くみ ばん

/100

知識・理解

(/50)


上40ページ

1 に あう 数を
書きましよう。 [10]

▶ 1cm = mm

上68ページ


2 下の 水の かさは、
何L 何dLですか。また、
何dL
ですか。 各10点[20]



▶ L dL ▶ dL

上76ページ

3 何時何分ですか。午前、午後を
つかって 書きましよう。 [10]



ひ
る

()

下57ページ

4 つぎの 数を 数字で
書きましよう。 [10]

▶ 1000を 8こ、10を 2こ
あわせた 数 ()

技能

(/50)

けいさん

5 計算を しましよう。

上14ページ

各10点[20]

①
$$\begin{array}{r} 46 \\ + 39 \\ \hline \end{array}$$

上90ページ

②
$$\begin{array}{r} 158 \\ - 97 \\ \hline \end{array}$$

6 かけ算を しましよう。

下19~20ページ

各10点[20]

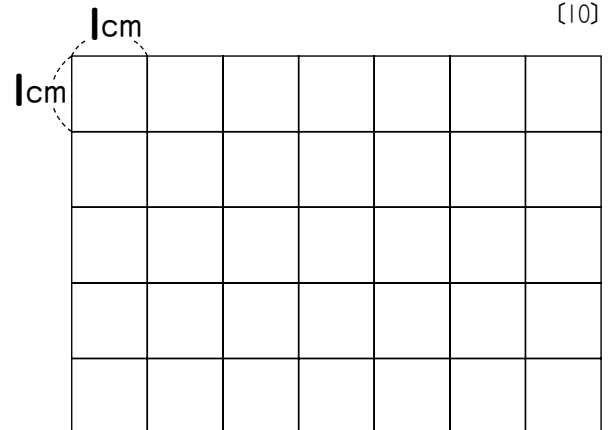
① 4×3

下29~30ページ

② 6×9

上107ページ

7 たて 4cm、よこ 5cm
の 長方形を かきましよう。 [10]





2年の まとめ

出題範囲 1. ひょうと グラフ~16. 分数

な
ま
え

な
ま
え

くみ

ばん

/50

数学的な考え方

(/50)

上92~93ページ

1 まみさんは、105円
もって います。68円の
ジュースを ^か 買います。
のこりは いくらですか。

式15点・答え10点[25]

[しき]

こた
答え ()

下31~32ページ

2 ペンを、7本ずつ 5人に
くばります。ペンは、
ぜんぶで ^{なんぼん} 何本 いらいますか。

式15点・答え10点[25]

[しき]

こた
答え ()