

# 算数 4年のまとめ

出題範囲 1.折れ線グラフと表~13.分数

な  
ま  
え

組 番

/100

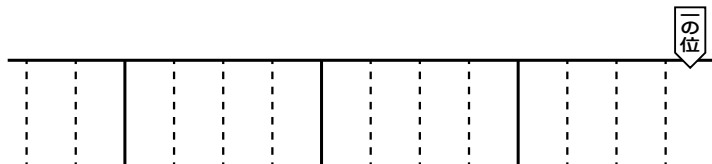
## 知識・理解

( /50)

上89~93ページ

1 次の数を数字で書きましょう。 [10]

▶ |兆を4こ, |億を5こあわせた数



上121~122ページ

2 四捨五入して、一万の位までのがい数にしましょう。 [10]

▶ 48324 ( )

下38ページ

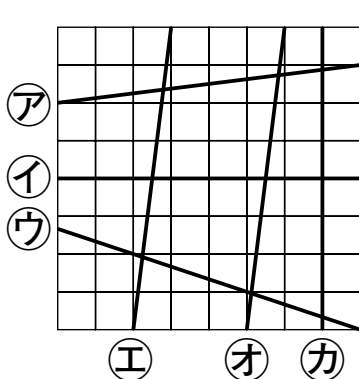
3 次の数を書きましょう。 [10]

▶ 0.01を570こ集めた数 ( )

上70ページ

4 次の直線を、㊦から㊦で答えましょう。 [10]

各10点 [20]



① ㊦の直線に垂直な直線

( )

② ㊦の直線に平行な直線

( )

## 技能

( /50)

上110~111ページ

5 わり算をしましょう。商は整数で求め、わりきれないときはあまりもだしましょう。 [10]

$$21 \overline{)345}$$

わる数を20とみて、商の見当をつけよう。



6 計算をしましょう。③は、わりきれるまで計算しましょう。

各10点 [30]

下42ページ

① 
$$\begin{array}{r} 2.43 \\ + 1.27 \\ \hline \end{array}$$

下58ページ


② 
$$\begin{array}{r} 4.8 \\ \times 26 \\ \hline \end{array}$$

下67ページ

③ 
$$3 \overline{)1.02}$$

上24~25ページ

7 ㊦の角度をはかりましょう。 [10]



# 算数

## 4年のまとめ

出題範囲 1.折れ線グラフと表~13.分数

上  
下  
89

な  
ま  
え

組 番

/50

### 数学的な考え方

( /50)

下2~5ページ

**1** 90円のノートを4さつと、80円のシールを2まい買いました。代金は何円ですか。1つの式に表して、答えを求めましょう。

式15点・答え10点[25]

[式]

答え ( )

下87ページ

**2** さとうが、大きい入れ物に  $1\frac{1}{5}$ kg、小さい入れ物に  $\frac{2}{5}$ kg入っています。さとうは全部で何kgありますか。

式15点・答え10点[25]

[式]

答え ( )