

# 算数 算数のまとめ

190  
206  
なまえ

組 番

/100

## 知識・理解 ( /50)

## 技能 ( /50)

**1** □にあてはまる数を書きましょう。  
各10点[20]

**5** 小数の計算をしましょう。  
各10点[20]

① 174000は、1000を□に  
集めた数です。

② 21.6は、0.1を□に集めた  
数です。

①

$$\begin{array}{r} 1.4 \\ \times 3.8 \\ \hline \end{array}$$

②

$$4 \overline{) 9.2}$$

**2** 7.35を、<sup>ししやごにゆう</sup>四捨五入して、 $\frac{1}{10}$ の位  
までのがい数で表しましょう。 [10]

**6** 分数の計算をしましょう。 [10]

$$\frac{3}{4} - \frac{2}{3}$$



$\frac{1}{100}$ の位を四捨五入  
すればいいね。

( )

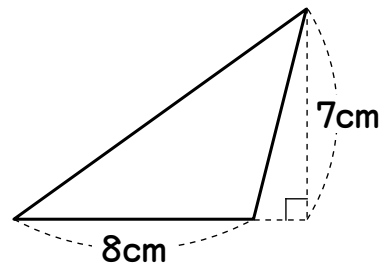
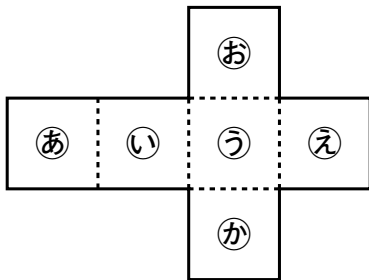
( )

**3** 次の2つの数の、最小公倍数を求め  
ましょう。 [10]

**7** 下の三角形の面積を求めましょう。  
式・答え各10点[20]

6, 15 ( )

**4** 右の<sup>てんかいず</sup>展開図  
を組み立てて、  
立方体をつく  
ります。  
㉔の面と平  
行になる面は、  
どの面ですか。  
[10]



[式]

( )

答え ( )

# 算数 算数のまとめ

190  
~  
206  
な  
ま  
え

組 番

/50

## 数学的な考え方

( /50)

**1** 3.3Lのお茶を6人で等分します。  
1人分は何Lになりますか。

式15点・答え10点[25]

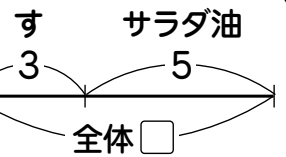
[式]

答え ( )

**2** すとサラダ油を混ぜて、ドレッシングを120mLつくることにしました。すとサラダ油の量の<sup>ひ</sup>比が3:5になるようにします。用意するサラダ油の量は何mLですか。 式15点・答え10点[25]



サラダ油と全体の量の比を考えよう。



[式]

答え ( )