

理科

たしかめよう

出題範囲 ●●●こん虫のかんさつ ~ 6.光のせいしつ

なまえ

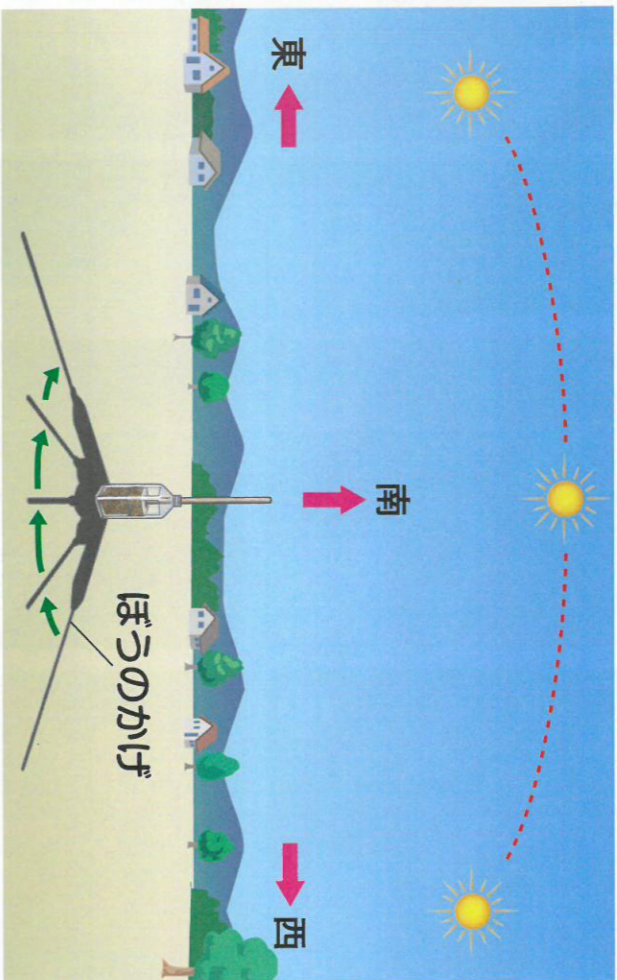
組 番

科学的な思考・表現

各10点 [50]

5 かげの向きと太陽の動きを調べます。

各10点 [30]



① 太陽の動き方で、正しいもの1つに○をつけましょう。

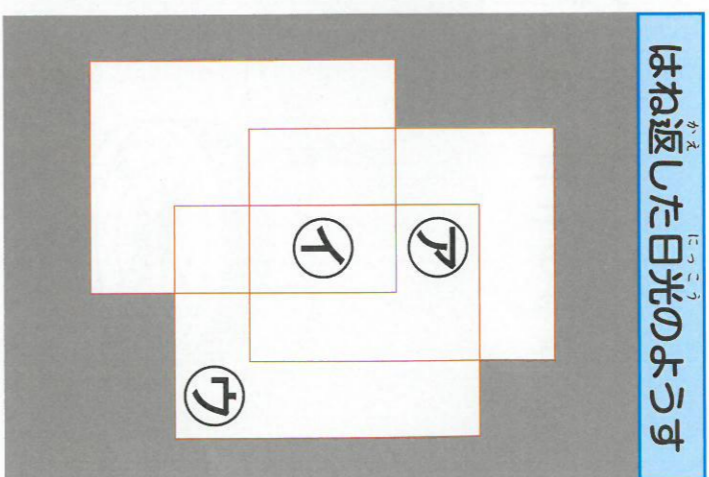

() 東から西へ動く。 () 西から東へ動く。 () 南から北へ動く。

② かげの動く向きは、太陽の動く向きと同じですか、ちがいますか。 ()

③ 時間がたつとかげが動くわけを書きましょう。

6 かがみ3まいではね返した日光を重ねて、ようすを調べます。

各10点 [20]



はね返した日光のようす

① いちばん明るいのは、ア①ウのどこですか。

② 明るいところとあたたかさのかんけいで、正しいもの1つに○をつけましょう。

明るいところほど、あたたかくなって

明るいところでも、あたたかさはほかのどこと

同じ。

おわったら、答えを見なおしましょう。

