

9

17. 三角形と角


83
91

名前


: 1つ25点
.....

1 つぎ 次の三角形をかきましょう。

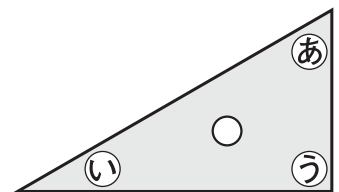
① ① 辺の長さが3cm, 4cm, 4cmの二等辺三角形



② ② 1辺の長さが3cmの正三角形

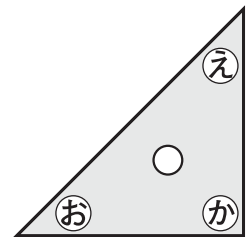


2 右の1組の三角じょうぎを見て、あからかで答えましょう。



① ① 直角になっている角はどれとどれですか。 () と ()

② ② あのといの角では、どちらが大きいですか。 ()



チェック! いくつできたかな?

0こ～1こ がんばろうね

2こ～3こ あとちよつと

4こ やったね!