

11

14. 直方体と立方体

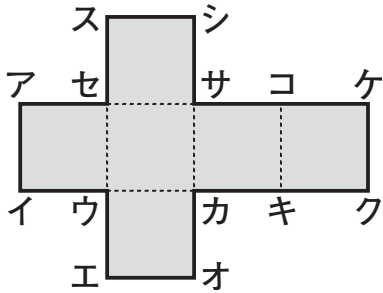
91
101

名前

1問20点

東4・Ⅲ

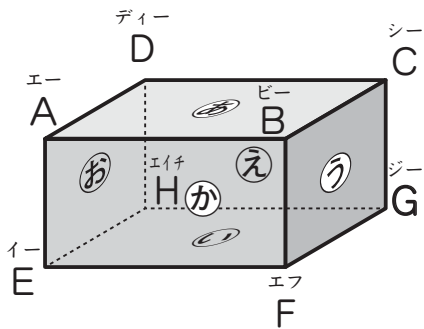
1 下の立方体の展開図を組み立てます。次の点や辺を答えましょう。



① 点コと重なる点 ()

② 辺エオと重なる辺 ()

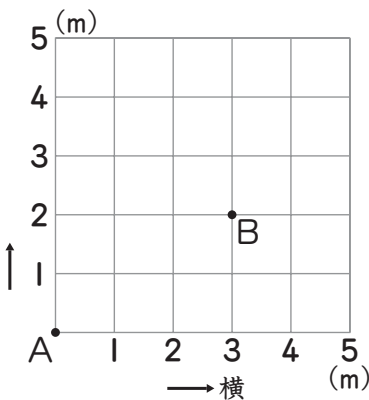
2 下の図は直方体です。次の面を、全部答えましょう。



① 面①に平行な面 ()

② 辺ABに垂直な面 ()

3 下の図で、点Aをもとにして、点Bの位置を、横とたての長さで表しましょう。



(横 _____ m, たて _____ m)



何問できたかな?

0問～2問
がんばろうね

3問～4問
あとちょっと

5問
やったね!