


1

11. 図形の角



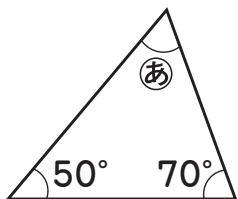
名前

1問20点

東5・Ⅲ

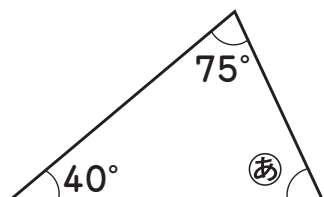
◆ ①の角度は何度ですか。計算で求めましょう。

①



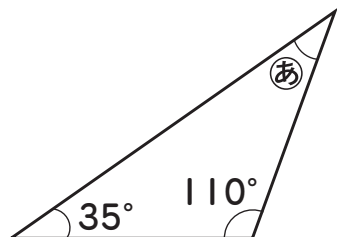
()

②



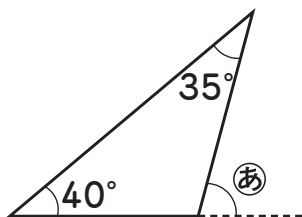
()

③



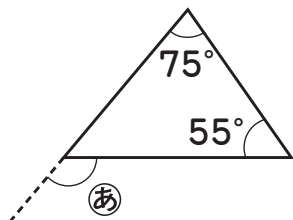
()

④



()

⑤





()

チェック!

何問できたかな?



0問～2問
がんばろうね 

3問～4問
あとちょっと 

5問
やったね! 