

9

算数のまとめ
6. 面積, 体積

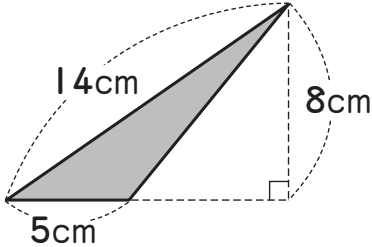
名前

1問20点

東6・Ⅲ

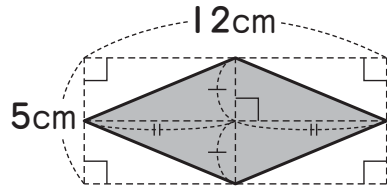
1 色のついた部分の面積を求めましょう。

①



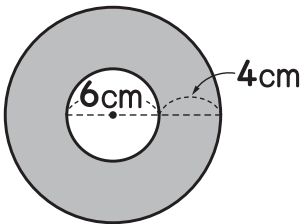
()

②



()

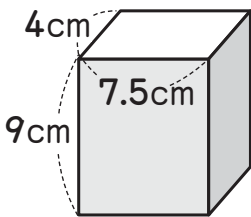
③



()

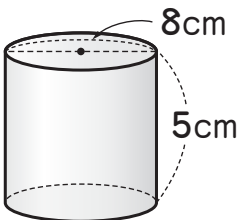
2 次の立体の体積を求めましょう。

①



()

②



()

チェック! 何問できたかな?

0問～2問 がんばろうね

3問～4問 あとちょっと

5問 やったね!