

# さんすう

## まとめ

出題範囲 8. どちらが ながい~12. かたちあそび

な  
ま  
ま  
え

くみ ばん

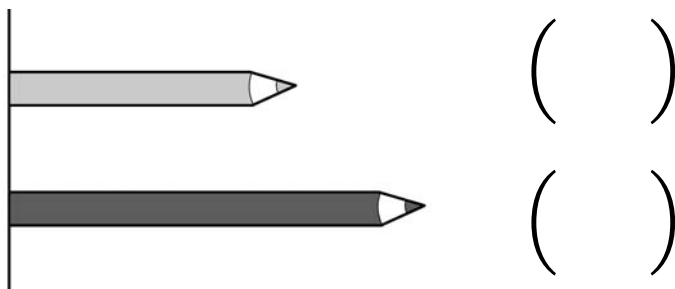
/100

### 知識・理解

( /50)

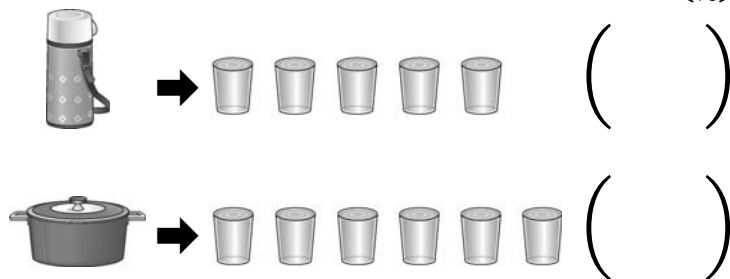
上78ページ

1 ながい ほうに ○を  
つけましょう。 [15]



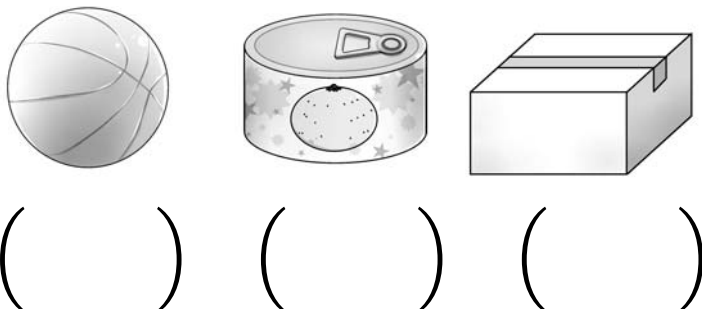
上89ページ

2 みずが おおく はいる  
ほうに ○を つけましょう。 [15]



下14ページ

3 と にて いる かたち  
に ○を つけましょう。 [20]



### 技能

( /50)

上84~86ページ

4 けいさんを  
しましょう。 各10点 [20]

①  $2+3+4$

②  $8-6+5$

下3~7ページ

5 たしざんを  
しましょう。 各10点 [30]

①  $9+5$

②  $7+8$

③  $4+7$

# さんすう

## まとめ

出題範囲 8.どちらが ながい~12.かたちあそび

なまえ

くみ

ばん

/50

### 数学的な考え方

( /50)

上84~85ページ

1 きっては なんまい のこって いますか。

1つの しきに かいて, こたえましょう。式15点・答え10点[25]



8まい あります。

2まい つかいました。1まい つかいました。

[しき]

こたえ ( )

下3ページ

2 いちごの あめが 7こ, ぶどうの あめが 6こ あります。あめは, ぜんぶで なんこ ありますか。

式15点・答え10点[25]



[しき]

こたえ ( )