

さんすう

7. 時こくと 時間

74
77

な
ま
え

くみ ばん

/100

知識・理解

(/50)

74~75ページ

1 □にあう ^{かず} 数を ^か 書きましょう。

[10]


▶ | ^{じかん} 時間 = □ ^{ぶん} 分

76~77ページ

2 つぎの ^じ 時こくを ^{ごぜん} 午前, ^{ごご} 午後を ^か つかって 書きましょう。


各20点[40]

① あさ



()

② よる



()


技能

(/50)

74~75ページ

3 ^{いま} 今の ^じ 時こくは, ^じ 4時 ^{ぶん} 10分 ^じ です。| ^{じかんまえ} 時間前の ^じ 時こくは ^{なんじなんぶん} 何時何分ですか。

[25]

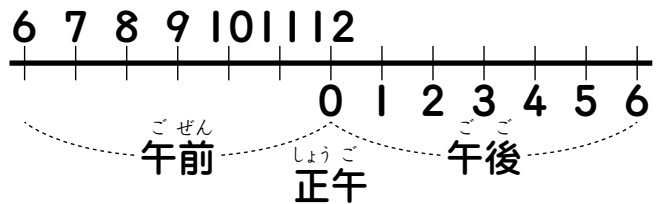


()

76~77ページ

4 下の ^ず 図を見て, つぎの ^{じかん} 時間を ^{こた} 答えましょう。

[25]



▶ ^{ごぜん} 午前 ^じ 9時から, ^{ごご} 午後 ^じ 1時 ^{じかん} までの 時間

()

ポイント
1めもりを 1時間として 数えて みよう。





れんしゅうもんだい

なまえ

くみ

ばん

➡76~77ページ

① ^{なんじなんぶん}何時何分ですか。^{ごぜん}午前、^{ごご}午後を ^{つかって}つけて ^{書き}書き ^{ましよう。}ましよう。

あさ



()

➡75ページ


② □に ^{あう}あう ^{かず}数を ^か書きま ^{しよう。}しよう。

① 1 ^{じかん}時間 10 ^{ぶん}分 = □ ^{ぶん}分

② 90 ^{ぶん}分 = □ ^{じかん}時間 □ ^{ぶん}分

➡74~77ページ

③ ^{ごぜん}午前 10 ^じ時の 4 ^{じかんあと}時間後の ^じ時こくは ^{なんじ}何時ですか。



()